
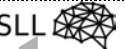
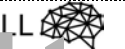



Bingo Mikroskopie 	Bingo Mikroskopie 	Bingo Mikroskopie 	Bingo Mikroskopie 
<p>1 Wie viele Linsen besitzt eine Lupe?</p> <p><i>Eine Lupe besteht aus einer Linse.</i></p>	<p>5 Wie viele Linsen besitzt ein Lichtmikroskop?</p> <p><i>Ein Lichtmikroskop besitzt zwei Linsen.</i></p>	<p>9 Welche Aufgabe hat eine Linse?</p> <p><i>Mithilfe einer Linse lassen sich Objekte vergrößern.</i></p>	<p>3 Welche Aufgabe haben Okular und Objektiv?</p> <p><i>Okular und Objektiv sind die beiden Linsen eines Lichtmikroskops. Sie vergrößern die Objekte.</i></p>
<p>17 Welcher der drei folgenden Sachen ist kein Bauteil eines Mikroskops: Linse, Beleuchtung, Objekt?</p> <p><i>Linse und Beleuchtung sind Bauteile eines Lichtmikroskops im Gegensatz zum Objekt.</i></p>	<p>21 Nenne mindestens drei Zubehörteile für das Mikroskopieren!</p> <p><i>Zu den Zubehörteilen gehören Messer, Bleisatz, Putztuch, Pinzette, Präpariernadel, Schere, kleiner Becher, Filterpapier, Reckglas, Objektträger, Pipette, Zeichenpapier.</i></p>	<p>2 Welche Aufgabe hat der Objektivrevolver eines Mikroskops?</p> <p><i>Der Objektivrevolver dient der Befestigung und dem Drehen der Objektive.</i></p>	<p>6 Welche Aufgabe hat der Tubus eines Mikroskops?</p> <p><i>Der Tubus hält das Okular.</i></p>